


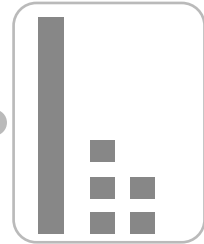
1 Completa y une.



+  =

trece


quince




+  =

dieciocho


diecisiete



+  =



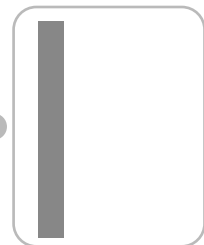
+  =




+  =

dieciséis

doce




+  =



+  =

diecinueve

diez



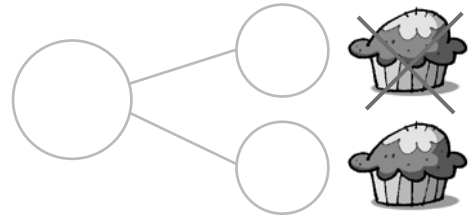
+  =

1 Lee, tacha y resta.

Hay 9 y me como 2. ¿Cuántas quedan?



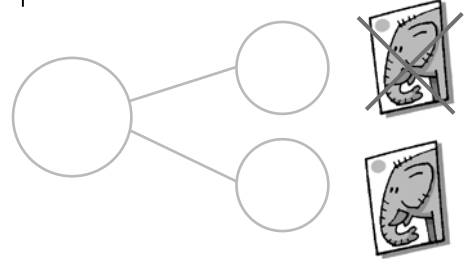
$$\square - \square = \square$$



Tengo 6 y regalo 4. ¿Cuántos me quedan?



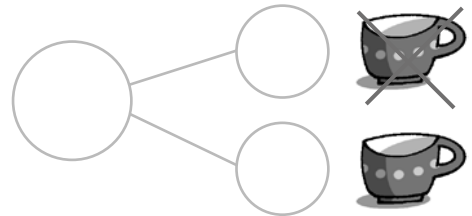
$$\square - \square = \square$$



Hay 8 y se rompen 3. ¿Cuántas quedan?



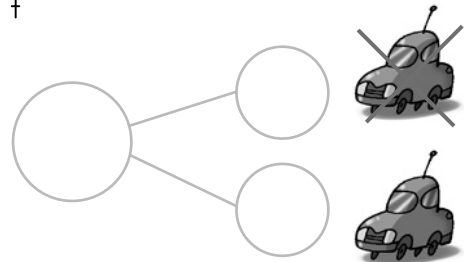
$$\square - \square = \square$$



Tengo 5 y pierdo 1. ¿Cuántos me quedan?



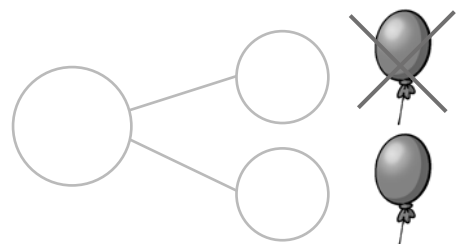
$$\square - \square = \square$$




Hay 8 y se explotan 5. ¿Cuántos quedan?




$$\square - \square = \square$$



- 1 Escribe los números del 1 al 3 para ordenar a estas niñas de la más alta a la más baja.



- 2 Señala en azul lo que pesa más y en amarillo lo que pesa menos.



- 3 Señala donde cabe menos agua en cada caso.

